

Prefeitura Municipal de Irecê  
Processo Seletivo Simplificado para provimento de cargos  
Edital nº 001/2017 – Código 115

CONHECIMENTOS GERAIS (QUESTÕES DE 01 A 30)

Leia o texto 1 para responder às questões 01 e 02.

Texto 1



Fonte: google Imagens (2017)

**Questão 01 (Peso 3)**

Sobre o vocábulo “pneus”, no texto 1, analise as assertivas e identifique com **V** as verdadeiras e com **F** as falsas.

- ( ) O uso do vocábulo pneus no texto 1 é um exemplo de polissemia.
- ( ) O vocábulo pneus, nos dois quadros, pertence a mesma classe gramatical.
- ( ) No quadro 1, a palavra “pneus” apresenta sentido denotativo e no quadro 2 conotativo.
- ( ) No quadro 1, a palavra “pneus” apresenta sentido conotativo e no quadro 2 denotativo.

A alternativa que contém a sequência correta, de cima para baixo, é

- A) V F F V
- B) V F V F
- C) V V F V
- D) F F F V
- E) F V V F

**Questão 02 (Peso 3)**

Sobre os vocábulo estes e esses utilizados no texto 1, analise as assertivas e identifique com **V** as verdadeiras e com **F** as falsas.

- ( ) São pronomes relativos.
- ( ) No quadro 1, o vocábulo “**estes**”, é um pronome demonstrativo adjetivo.
- ( ) No quadro 1, o pronome “**estes**” é possessivo e, no quadro 2, “**esses**” é um pronome demonstrativo.

A alternativa que contém a sequência correta, de cima para baixo, é

- A) F V F
- B) F F V
- C) V F F
- D) V F V
- E) V V F

**Questão 03 (Peso 2)**

Considerando a **norma culta**, a alternativa que contém a concordância verbal correta é

- A) Férias fazem bem.
- B) Haviam dois alunos interessados no projeto.
- C) Faz dois anos que o Hospital foi inaugurado.
- D) Mais de um aluno pediram adiamento da prova.
- E) Teresa ou Cristina assumirão a direção do Hospital.

Questão 04 (Peso 2)



Vi na primeira \_\_\_\_\_ do relatório, que, durante a \_\_\_\_\_ solene, o artista declarou a \_\_\_\_\_ dos direitos autorais.

Considerando a semântica correta, a alternativa que preenche, correta e sequencialmente, as lacunas do trecho acima é

- A) cessão / sessão / sessão
- B) sessão / sessão / cessão
- C) seção / cessão / sessão
- D) seção / sessão / cessão
- E) cessão / sessão / sessão

Leia o texto 2 para responder à questão 05.

Texto 2



Disponível em: Google Imagens (2017)

Questão 05 (Peso 3)

Sobre a justificativa para o uso das vírgulas, analise as assertivas e identifique com **V** as verdadeiras e com **F** as falsas.

- ( ) No trecho “Hamlet, [...]”, a vírgula é utilizada para isolar o vocativo.
- ( ) No trecho “Quem são essas pessoas, papai?”, a vírgula é utilizada para isolar o aposto.
- ( ) O trecho “[...] quando você se casar e tiver sua própria casa [...]” é apresentado entre vírgulas para isolar a oração subordinada adverbial.

A alternativa que contém a sequência correta, de cima para baixo, é

- A) V F F
- B) V F V
- C) V V F
- D) F V F
- E) F F V

Questão 06 (Peso 2)

Considerando a **norma culta**, a alternativa que contém a concordância nominal correta é

- A) Os arquivos estão anexo.
- B) Maria está meio cansada.
- C) João tirou o ocúlos antes do jogo.
- D) Elas mesmo contarão a história a você.
- E) Vamos almoçar? Já são meio-dia e meio.

Questão 07 (Peso 2)



Fonte: Google imagens (2017).

Considerando o emprego semanticamente correto das expressões apresentadas na figura 2, preencha as lacunas do trecho a seguir.

\_\_\_\_\_ de cinco anos, \_\_\_\_\_ de 10 pessoas procuraram o Sr. Joaquim \_\_\_\_\_ da ilegalidade do muro da sua propriedade, que está \_\_\_\_\_ de um metro do rio.

A alternativa que preenche, correta e sequencialmente, as lacunas do trecho acima, é

- A) Cerca / cerca / acerca / há cerca
- B) A cerca / cerca / acerca / há cerca
- C) A cerca / acerca / há cerca / cerca
- D) Acerca / a cerca / há cerca / cerca
- E) Há cerca / cerca / acerca / a cerca

Questão 08 (Peso 1)

Considerando a circunstância expressa pelos termos em destaque, numere a segunda coluna de acordo com a primeira.

- (1) fim ( ) **Sempre** sorria.
- (2) modo ( ) Ela se expressa **bem**.
- (3) tempo ( ) **Realmente**, ela chorou.
- (4) afirmação ( ) A noite esta **muito** fria.
- (5) intensidade ( ) Estudou **para** o concurso.
- ( ) Ela caminhou **depressa** pela rua escura.

A alternativa que contém a sequência correta, de cima para baixo, é

- A) 1 2 2 3 4 1
- B) 2 5 1 3 4 5
- C) 2 1 2 5 4 3
- D) 3 2 4 5 1 2
- E) 4 4 5 2 1 3

Questão 09 (Peso 2)

Figura 1



Fonte: Google Imagens (2017)

Sobre a colocação pronominal, é correto afirmar que em \_\_\_\_\_, a \_\_\_\_\_ é a forma correta de colocação pronominal, \_\_\_\_\_.

A alternativa que preenche, correta e sequencialmente, as lacunas do trecho acima é

- A) "Beije-me" / próclise / por ser uma frase imperativa
- B) "Abraçe-me" / próclise / porque o verbo inicia a frase
- C) "Abraçe-me" / mesóclise / porque é uma frase exclamativa
- D) "Nunca deixe-me" / ênclise / porque, antes do verbo, há uma palavra negativa
- E) "Nunca deixe-me" / próclise / porque o adverbio não está separado por vírgula

**Prefeitura Municipal de Irecê**  
**Processo Seletivo Simplificado para provimento de cargos**  
**Edital nº 001/2017 – Código 115**

**Questão 10 (Peso 1)**

A alternativa que contempla o uso obrigatório do acento grave indicativo de crase é

- A) Vamos até à sala?
- B) Entregue à suas colegas.
- C) Ele entregou os livros à Maria.
- D) As páginas foram corrigidas uma à uma.
- E) Entregue à uma aluna do turno vespertino.

Para responder às **questões de 11 a 16**, analise a **Figura 2**, que apresenta uma planilha que é parte de um relatório criado no **MS Office 2010 – Excel**, na versão em Português, contendo dados fictícios de uma Empresa Pública.

**Figura 2\_Planilha**

	A	B	C	D	E
1	Mês	Receita	Tributos	Custos e Despesas	Resultado
2	Janeiro	500.000,00	75.000,00	400.000,00	25.000,00
3	Fevereiro	650.000,00	97.500,00	455.000,00	97.500,00
4	Março	350.000,00	52.500,00	?	0,00
5	Abril	220.000,00	33.000,00	165.000,00	22.000,00
6	Maiο	280.000,00	42.000,00	168.000,00	70.000,00
7	Junho	300.000,00	45.000,00	210.000,00	45.000,00
8	Julho	420.000,00	63.000,00	294.000,00	63.000,00
9	Agosto	230.000,00	34.500,00	172.500,00	23.000,00
10	Setembro	400.000,00	60.000,00	140.000,00	?
11	Outubro	520.000,00	78.000,00	234.000,00	208.000,00
12	Novembro	490.000,00	73.500,00	245.000,00	171.500,00
13	Dezembro	510.000,00	76.500,00	153.000,00	280.500,00

Fonte: Elaboração própria (2017)

**Questão 11 (Peso 1)**

Considerando que a célula **E10** contém a fórmula **=B10-(C10+D10)**, o valor apresentado em **E10** é:

- A) 200.000,00
- B) 260.000,00
- C) 320.000,00
- D) 340.000,00
- E) 480.000,00
















**Questão 12 (Peso 2)**

Considerando que a célula **E4** contém a fórmula **=B4-(C4\*2+D4)**, o valor apresentado em **D4** é:

- A) 245.000,00
- B) 250.000,00
- C) 297.500,00
- D) 344.750,00
- E) 402.500,00

**Questão 13 (Peso 2)**

Considerando os alinhamentos dos textos contidos na **Linha 1**, os textos contidos nas **Células (A2:A13)** e os textos contidos nas **Células (E2:E13)**, pode-se afirmar que foram decorrentes de ações associadas, respectivamente, aos ícones/comandos:

- A)   
- B)   
- C)   
- D)   
- E)   

**Prefeitura Municipal de Irecê**  
**Processo Seletivo Simplificado para provimento de cargos**  
**Edital nº 001/2017 – Código 115**

---

Para responder às questões de 14 a 17, leia, também, o texto 3.

**Texto 3**

A planilha apresentada na **figura 2** foi reproduzida no **MS Office 2010 – Word**, na versão Português, mantendo todas as características no que diz respeito ao conteúdo e à forma.

**Questão 14 (Peso 2)**

Considerando os destaques existentes nas células **B3** e **E13**, sabendo-se que em uma das células existem dois comandos, pode-se afirmar que foram decorrentes de ações associadas, respectivamente, aos ícones/comandos apresentados na alternativa:

- A)   
- B)   
- C)   
- D)   
- E)   

**Questão 15 (Peso 2)**

Considerando os alinhamentos dos textos nas células **A1**, **B1** e **D1**, sabendo-se que existiram apenas um comando em cada célula, pode-se afirmar que foram decorrentes de ações associadas, respectivamente, aos ícones/comandos:

- A)   
- B)   
- C)   
- D)   
- E)   

**Questão 16 (Peso 2)**

Para reproduzir, fielmente, a **figura 2** no **MS Office 2010 – Word**, pode-se afirmar que a Tabela a ser inserida deverá ter:

- A) 15 linhas e 5 colunas  
B) 14 linhas e 6 colunas  
C) 14 linhas e 5 colunas  
D) 13 linhas e 6 colunas  
E) 13 linhas e 5 colunas

**Questão 17 (Peso 2)**

Joaquina da Silva, após digitar o **Texto 3** no **MS Office 2010 – Word**, na versão em Português, salvou o arquivo original exclusivamente em uma pasta não compartilhada em seu computador e resolveu enviá-lo eletronicamente para seu chefe utilizando os recursos disponíveis no próprio Word. Pode-se afirmar que os comandos usados por Joaquina para enviar o arquivo foram, sucessivamente,

- A) Arquivo / Salvar e Enviar / Salvar para SharePoint  
B) Arquivo / Salvar e Enviar / E-mail / Enviar como Link  
C) Arquivo / Salvar e Enviar / E-mail / Enviar como Anexo  
D) Arquivo / Salvar e Enviar / Publicar como postagem de Blog  
E) Arquivo / Salvar e Enviar / Compartilhar com Pessoas / Salvar na Nuvem

**Prefeitura Municipal de Irecê**  
**Processo Seletivo Simplificado para provimento de cargos**  
**Edital nº 001/2017 – Código 115**

---

**Questão 18 (Peso 2)**

Logo após enviar o arquivo para seu chefe, Joaquina da Silva resolveu **Salvar, Imprimir e Fechar** o arquivo, utilizando, exclusivamente, as teclas de atalho nativas disponíveis no **MS Office 2010 – Word**, na versão em Português. Nesse contexto, pode-se afirmar que ela utilizou, respectivamente, as seguintes teclas/comandos:

- A) Ctrl+F / Ctrl+I / Ctrl+C
- B) Ctrl+S / Ctrl+I / Ctrl+F
- C) Ctrl+O / Ctrl+P / Ctrl+F
- D) Alt, A, L / Ctrl+P / Ctrl+W
- E) Ctrl+S / Ctrl+P / Ctrl+W

**Questão 19 (Peso 2)**

Não satisfeita, ainda na página inicial do Word, Joaquina da Silva resolveu **Abrir** novamente o arquivo, **Selecionar todo o Texto**, colocá-lo em **Negrito, Imprimi-lo e Fechar** o arquivo, porém sem salvá-lo. Da mesma forma como procedeu anteriormente, utilizou, exclusivamente, as teclas de atalho nativas disponíveis no **MS Office 2010 – Word**, na versão em Português. Nesse contexto, pode-se afirmar que ela utilizou os seguintes comandos, sucessivamente, para realizar as operações destacadas em negrito

- A) Ctrl+O / Ctrl+T / Ctrl+P / Ctrl+I / Ctrl+F
- B) Ctrl+O / Ctrl+T / Ctrl+N / Ctrl+I / Ctrl+W
- C) Ctrl+A / Ctrl+S / Ctrl+B / Ctrl+P / Ctrl+F
- D) Ctrl+A / Ctrl+S / Ctrl+B / Ctrl+P / Ctrl+W
- E) Ctrl+A / Ctrl+T / Ctrl+N / Ctrl+P / Ctrl+W

**Questão 20 (Peso 2)**

O chefe de Joaquina, logo após receber, abrir e ler o texto contido no arquivo enviado eletronicamente por ela, solicitou que ela contasse as palavras, os caracteres sem espaços além da quantidade de parágrafos daquele texto e o informasse em 5(cinco) minutos. Aflita, Joaquina entrou em desespero, temendo não conseguir cumprir aquela missão em tão pouco tempo.

Conhecendo os poderosos recursos do **MS Office 2010 – Word**, na versão em Português, a alternativa que contém os comandos que Joaquina deve fazer para obter, instantaneamente, a informação solicitada é:

- A) Revisão / Mostrar Comentários
- B) Exibir / Layout de Impressão
- C) Exibir / Contar Palavras
- D) Layout / Contar Palavras
- E) Revisão / Contar Palavras

**Questão 21 (Peso 1)**

De acordo com a Constituição Federal de 1988 e suas alterações posteriores, é correto afirmar que

- A) é livre a manifestação do pensamento, garantindo-se o anonimato.
- B) se concedido direito de resposta, não cabe indenização por dano moral.
- C) é livre o exercício de qualquer trabalho, ofício ou profissão, atendidas as qualificações profissionais que a lei estabelecer.
- D) é livre a expressão da atividade intelectual, artística, científica e de comunicação, desde que aprovados pelos órgão de censura.
- E) a criação de associações e, na forma da lei, a de cooperativas dependem de autorização e supervisão estatal para seu funcionamento.

**Prefeitura Municipal de Irecê**  
**Processo Seletivo Simplificado para provimento de cargos**  
**Edital nº 001/2017 – Código 115**

---

**Questão 22 (Peso 3)**

O Estatuto da pessoa com deficiência, lei nº 13.146, de 6 de julho de 2015, tem como objetivo assegurar e a promover, em condições de igualdade, o exercício dos direitos e das liberdades fundamentais por pessoa com deficiência, visando à sua inclusão social e cidadania.

De acordo com o Estatuto da pessoa com deficiência, considera-se pessoa com mobilidade reduzida aquela que tenha, por qualquer motivo, dificuldade de movimentação, \_\_\_\_\_, gerando redução \_\_\_\_\_ da mobilidade, da flexibilidade, da coordenação motora ou da percepção, incluindo \_\_\_\_\_.

A alternativa que preenche, correta e sequencialmente, as lacunas do trecho acima é

- A) permanente / efetiva / idosos e obesos
- B) temporária / parcial / gestantes e pessoas com criança de colo
- C) permanente ou temporária / efetiva / idosos, gestantes e obesos
- D) permanente / efetiva / idosos, gestantes, lactantes, pessoas com criança de colo e obesos
- E) permanente ou temporária / efetiva / idosos, gestantes, lactantes, pessoas com criança de colo e obesos

**Questão 23 (Peso 3)**

De acordo com o Estatuto da Criança e do Adolescente, lei nº 8.069, de 13 de julho de 1990, e alterações posteriores, a criança e o adolescente têm o direito de ser educados e cuidados sem o uso de castigo físico ou de tratamento cruel ou degradante. Sobre o tratamento cruel de degradante, analise as assertivas e identifique com **V** as verdadeiras e com **F** as falsas.

- ( ) Envolve condutas que humilhe ou ameace gravemente; ou ridicularize a criança ou o adolescente.
- ( ) Consiste em qualquer ação de natureza disciplinar ou punitiva aplicada com o uso da força física sobre a criança ou o adolescente que resulte em sofrimento físico.
- ( ) É responsabilidade privativa do Estado, velar pela dignidade da criança e do adolescente, pondo-os a salvo de qualquer tratamento desumano, violento, aterrorizante, vexatório ou constrangedor.

A alternativa que contém a sequência correta, de cima para baixo, é

- A) V F F
- B) V V F
- C) V F V
- D) F V F
- E) F F V

**Questão 24 (Peso 2)**

“É dever da família, da comunidade, da sociedade em geral e do poder público assegurar, com absoluta prioridade, a efetivação dos direitos referentes à vida, à saúde, à alimentação, à educação, ao esporte, ao lazer, à profissionalização, à cultura, à dignidade, ao respeito, à liberdade e à convivência familiar e comunitária” (BRASIL, 1990, p.1).

Sobre a garantia de prioridade, de acordo com o Estatuto da Criança e do Adolescente e suas alterações posteriores, analise as opções a seguir e identifique com **V** as verdadeiras e com **F** as falsas.

- ( ) Primazia de receber proteção e socorro em quaisquer circunstâncias.
- ( ) Precedência de atendimento nos serviços públicos ou de relevância pública.
- ( ) O irmão maior de 18 anos, independente de estado civil, tem prioridade na adoção do(s) irmão(s) menor(es).
- ( ) Destinação privilegiada de recursos públicos nas áreas relacionadas com a proteção à infância e à juventude.

A alternativa que contém a sequência correta, de cima para baixo, é

- A) V F F V
- B) V V F F
- C) V V F V
- D) F V F V
- E) F F V F

**Prefeitura Municipal de Irecê**  
**Processo Seletivo Simplificado para provimento de cargos**  
**Edital nº 001/2017 – Código 115**

**Questão 25 (Peso 2)**



Google Imagens (2017)

De acordo com o estatuto da criança e do adolescente, considera-se criança, a pessoa até \_\_\_\_\_ anos de idade incompletos, e adolescente aquela entre \_\_\_\_\_ e \_\_\_\_\_ anos de idade. Nos casos expressos em lei, aplica-se excepcionalmente este Estatuto às pessoas entre \_\_\_\_\_ e \_\_\_\_\_ anos de idade.

A alternativa que preenche, correta e sequencialmente, as lacunas do trecho acima é

- A) 12 / 12 / 21 / 21 / 24
- B) 12 / 12 / 18 / 18 / 21
- C) 14 / 14 / 18 / 18 / 21
- D) 14 / 14 / 21 / 21 / 24
- E) 16 / 16 / 21 / 21 / 21

**Questão 26 (Peso 2)**

De acordo com o Estatuto da Criança e do Adolescente (ECA), a criança e o adolescente têm direito à educação, visando ao pleno desenvolvimento de sua pessoa, preparo para o exercício da cidadania e qualificação para o trabalho.

No que diz respeito ao direito à educação, à cultura, ao esporte e ao lazer, de acordo com o ECA, analise as assertivas e identifique com **V** as verdadeiras e com **F** as falsas.

- ( ) A criança e o adolescente têm direito à igualdade de condições para o acesso e permanência na escola.
- ( ) A criança e o adolescente têm direito de contestar critérios avaliativos, podendo recorrer às instâncias escolares superiores.
- ( ) A criança e o adolescente têm direito ao acesso à escola pública e gratuita, devendo ser assegurado que seja próxima de sua residência até a conclusão do ensino fundamental, independente de idade.

A alternativa que contém a sequência correta, de cima para baixo, é

- A) F V F
- B) F F V
- C) V F F
- D) V V F
- E) V F V

**Questão 27 (Peso 2)**

“A educação constitui direito da pessoa com deficiência, assegurados sistema educacional inclusivo em todos os níveis e aprendizado ao longo de toda a vida [...]” (BRASIL, 2015, p.6).

Sobre o que deve ser assegurado pelo poder público na educação da pessoa com deficiência, de acordo com o estatuto da pessoa com deficiência, analise as assertivas e identifique com **V** as verdadeiras e com **F** as falsas.

- ( ) Oferta de profissionais de apoio escolar.
- ( ) Oferta de educação bilíngue, em Libras como segunda língua, em escolas e classes bilíngues e em escolas inclusivas.
- ( ) Oferta do ensino da Libras, do Sistema Braille e uso de recursos de tecnologia assistiva, de forma a ampliar habilidades funcionais dos estudantes, promovendo sua autonomia e participação.

A alternativa que contém a sequência correta, de cima para baixo, é

- A) F V V
- B) F F V
- C) V V F
- D) V F F
- E) V F V



**Prefeitura Municipal de Irecê**  
**Processo Seletivo Simplificado para provimento de cargos**  
**Edital nº 001/2017 – Código 115**

---

**Questão 28 (Peso 2)**

A lei nº 10.741, de 01 de outubro de 2003, aprovou o Estatuto do Idoso e estabelece que é obrigação da família, da comunidade, da sociedade e do Poder Público assegurar ao idoso, com absoluta prioridade, a efetivação do direito à vida, à saúde, à alimentação, à educação, à cultura, ao esporte, ao lazer, ao trabalho, à cidadania, à liberdade, à dignidade, ao respeito e à convivência familiar e comunitária.

De acordo com o Estatuto do Idoso e suas alterações posteriores, analise as assertivas e identifique com **V** as verdadeiras e com **F** as falsas.

- ( ) O atendimento asilar é assegurado aos idosos maiores de 80 anos independente da situação econômico financeira da sua família.
- ( ) Os idosos maiores de oitenta anos têm prioridade especial no atendimento as suas necessidades sempre preferencialmente em relação aos demais idosos.
- ( ) Todo cidadão tem o dever de comunicar à autoridade competente qualquer forma de violação ao estatuto do idoso que tenha testemunhado ou de que tenha conhecimento.

A alternativa que contém a sequência correta, de cima para baixo, é

- A) V V F
- B) V F V
- C) F V F
- D) F V V
- E) F F V

**Questão 29 (Peso 2)**

No que diz respeito à profissionalização e ao trabalho do idoso, analise as assertivas e identifique com **V** as verdadeiras e com **F** as falsas.

- ( ) O primeiro critério de desempate em concurso público será a idade, dando-se preferência ao de idade mais elevada.
- ( ) Na admissão do idoso em qualquer trabalho ou emprego, é vedada a discriminação e a fixação de limite máximo de idade, inclusive para concursos, ressalvados os casos em que a natureza do cargo o exigir.
- ( ) O Poder Público criará e estimulará programas de preparação dos trabalhadores para a aposentadoria, com antecedência mínima de dois anos, por meio de estímulo a novos projetos sociais, conforme seus interesses, e de esclarecimento sobre os direitos sociais e de cidadania.

A alternativa que contém a sequência correta, de cima para baixo, é

- A) V V F
- B) V F V
- C) F V F
- D) F V V
- E) F F V

**Questão 30 (Peso 1)**

“A acessibilidade é direito que garante à pessoa com deficiência ou com mobilidade reduzida viver de forma independente e exercer seus direitos de cidadania e de participação social” (BRASIL, 2015, p.13).



Fonte: Google Imagens (2017)

De acordo com o estatuto da pessoa com deficiência, a figura 1 representa uma barreira

- A) atitudinal
- B) urbanística
- C) tecnológica
- D) arquitetônica
- E) de transporte

**Prefeitura Municipal de Irecê**  
**Processo Seletivo Simplificado para provimento de cargos**  
**Edital nº 001/2017 – Código 115**

---

**CONHECIMENTOS ESPECÍFICOS – PEDAGOGO (QUESTÕES DE 31 A 40)**

**Questão 31 (Peso 3)**

O decreto nº 7.611, de 17 de novembro de 2011, dispõem sobre a educação especial e o atendimento educacional especializado. Sobre o público alvo da educação especial, analise as opções a seguir e identifique com **V** as verdadeiras e com **F** as falsas.

- ( ) Pessoas com deficiência.
- ( ) Pessoas com defasagem idade-série.
- ( ) Pessoas com altas habilidades ou superdotação.
- ( ) Pessoas com transtornos globais do desenvolvimento.

A alternativa que contém a sequência correta, de cima para baixo, é

- A) F V V F
- B) F F V V
- C) V V F V
- D) V F F F
- E) V F V V

**Questão 32 (Peso 3)**

Sobre o que deve ser previsto na organização do Projeto Pedagógico da escola de ensino regular na institucionalização da oferta do Atendimento Educacional Especializada, de acordo com a resolução nº 4, de 2 de outubro de 2009, analise as opções a seguir e identifique com **V** as verdadeiras e com **F** as falsas.

- ( ) Cronograma de atendimento aos alunos.
- ( ) Avaliações de rendimento diferenciadas para alunos com necessidades especiais.
- ( ) Identificação das necessidades educacionais específicas dos alunos, definição dos recursos necessários e das atividades a serem desenvolvidas.
- ( ) Sala de recursos multifuncionais: espaço físico, mobiliário, materiais didáticos, recursos pedagógicos e de acessibilidade e equipamentos específicos.
- ( ) Tradutor e intérprete de Língua Brasileira de Sinais, guia-intérprete e outros que atuem no apoio, principalmente às atividades de alimentação, higiene e locomoção.

A alternativa que contém a sequência correta, de cima para baixo, é

- A) V V F V F
- B) V F F F V
- C) V F V V V
- D) F V V F V
- E) F F V V F

**Questão 33 (Peso 3)**

Sobre o Programa Mais Educação, de acordo com o decreto nº 7.083, de 27 de janeiro de 2010, analise as assertivas e identifique com **V** as verdadeiras e com **F** as falsas.

- ( ) Um dos objetivos do Programa Mais Educação é garantia de um sistema educacional inclusivo em todos os níveis, sem discriminação e com base na igualdade de oportunidades.
- ( ) A finalidade do Programa Mais Educação é contribuir para a melhoria da aprendizagem por meio da ampliação do tempo de permanência de crianças, adolescentes e jovens matriculados em escola pública, mediante oferta de educação básica em tempo integral.
- ( ) Um dos princípios adotado pelo Programa Mais Educação é o incentivo à criação de espaços educadores sustentáveis com a readequação dos prédios escolares, incluindo a acessibilidade, e à gestão, à formação de professores e à inserção das temáticas de sustentabilidade ambiental nos currículos e no desenvolvimento de materiais didáticos.

A alternativa que contém a sequência correta, de cima para baixo, é

- A) V F V
- B) V V F
- C) V F F
- D) F V V
- E) F F V

Prefeitura Municipal de Irecê  
Processo Seletivo Simplificado para provimento de cargos  
Edital nº 001/2017 – Código 115

Analise o texto apresentado na figura 3 para responder à questão 34.

Figura 3

meu caro amigo:  
Estou muito contente por vê-lo na  
quinta-feira.  
De sempre estive com vocês dos um  
passo.  
Afetuosamente.

Fonte: Google Imagens (2017)

**Questão 34 (Peso 3)**

Sobre o(s) transtorno(s) caracterizado(s) pela figura 3, é correto afirmar que se trata(m) de

- A) dislexia e disgrafia
- B) disgrafia e desortografia
- C) discalculia e desortografia
- D) disortografia e dislexia
- E) transtorno do déficit de atenção.

Analise o texto apresentado na figura 4 para responder à questão 35.

Figura 4



Fonte: Google Imagens (2017)

**Questão 35 (Peso 3)**

Sobre o transtorno caracterizado pela figura 4, é correto afirmar que se trata de

- A) dislexia
- B) disgrafia
- C) discalculia
- D) disortografia
- E) transtorno do déficit de atenção.

**Questão 36 (Peso 3)**

De acordo com a lei nº 9.394, de 20 de dezembro de 1996, e suas alterações posteriores, sobre os deveres do estado com a educação, analise as opções a seguir e identifique com **V** as verdadeiras e com **F** as falsas.

- ( ) Educação infantil gratuita às crianças de até cinco anos de idade.
- ( ) Acesso público e gratuito aos ensinos fundamental e médio para todos os que não os concluíram na idade própria.
- ( ) Atendimento educacional especializado gratuito aos educandos com necessidades especiais, preferencialmente na rede regular de ensino.

A alternativa que contém a sequência correta, de cima para baixo, é

- A) V F V
- B) V V F
- C) V F F
- D) F V V
- E) F F V

**Prefeitura Municipal de Irecê**  
**Processo Seletivo Simplificado para provimento de cargos**  
**Edital nº 001/2017 – Código 115**

---

**Questão 37 (Peso 3)**

Sobre a defasagem idade-série, analise as assertivas e identifique com **V** as verdadeiras e com **F** as falsas.

- É benéfico para o aluno com desempenho insatisfatório repetir a mesma série/ano.
- As principais causas da distorção idade/série são a reprovação e o abandono escolar.
- A idade recomendada para ingressar no 2º ano é sete anos e para concluir o 9º ano é 14 anos.

A alternativa que contém a sequência correta, de cima para baixo, é

- A) V F V
- B) V V F
- C) F V F
- D) F V V
- E) F F V

**Questão 38 (Peso 3)**

Sobre a forma como o professor deve lidar com os alunos que apresentam TDAH, analise as assertivas e identifique com **V** as verdadeiras e com **F** as falsas.

- Preparar a sala com muitos estímulos.
- Deixar que eles se sentem próximo à janela.
- Envolvê-los em atividades de distribuição e organização do material.

A alternativa que contém a sequência correta, de cima para baixo, é

- A) V F V
- B) V V F
- C) V F F
- D) F V V
- E) F F V

**Questão 39 (Peso 3)**

Sobre as regras comuns para organização da educação infantil, de acordo com a lei nº 9.394, de 20 de dezembro de 1996, e suas alterações posteriores, analise as opções a seguir e identifique com **V** as verdadeiras e com **F** as falsas.

- Carga horária mínima anual de 800 horas, distribuída por um mínimo de 200 dias de trabalho educacional.
- Atendimento à criança de, no mínimo, quatro horas diárias para o turno parcial e de oito horas para a jornada integral.
- Controle de frequência pela instituição de educação pré-escolar, exigida a frequência mínima de 75% do total de horas.
- Avaliação mediante acompanhamento e registro do desenvolvimento das crianças, sem o objetivo de promoção, mesmo para o acesso ao ensino fundamental.

A alternativa que contém a sequência correta, de cima para baixo, é

- A) V F V F
- B) V V F F
- C) V F F V
- D) F V V F
- E) F F V V

**Questão 40 (Peso 3)**

Sobre os educandos que são considerados com necessidades especiais, de acordo com a resolução CNE/CEB nº 2, de 11 de setembro de 2001, analise as opções a seguir e identifique com **V** as verdadeiras e com **F** as falsas.

- Educandos altas habilidades/superdotação com grande facilidade de aprendizagem, que os levem a dominar rapidamente conceitos, procedimentos e atitudes.
- Educandos com dificuldades de comunicação e sinalização diferenciadas dos demais alunos, demandando a utilização de linguagens e códigos aplicáveis.
- Educandos com dificuldades acentuadas de aprendizagem ou limitações no processo de desenvolvimento que dificultem o acompanhamento das atividades curriculares. Como por exemplo, aquelas relacionadas a condições, disfunções limitações ou deficiências.

A alternativa que contém a sequência correta, de cima para baixo, é

- A) V V V
- B) V F V
- C) V F F
- D) F V V
- E) F F V